



ESTUDO EM CASA – DISTANCIAMENTO SOCIAL – COVID 19
ATIVIDADES DE CIÊNCIAS – 8º SÉRIE EJA
3ª e 4ª SEMANA: DE 16/08/2020 a 27/08/2021 REFERENTE A 4 AULAS
PROFª. LEONARDO

Nome: _____

CIÊNCIAS

CORREÇÃO DOS EXERCÍCIOS DE FIXAÇÃO.

1) Sabe-se que as estrelas-do-mar se alimentam de ostras. Para eliminar estrelas-do-mar de um tanque de cultivo de ostras, um criador decidiu cortá-las ao meio com o intuito de matá-las, mas devolveu as duas partes ao tanque. A longo prazo, o que deve acontecer com o tamanho da população de estrelas-do-mar dentro do tanque? Justifique.

R: Espera-se que o tamanho da população de estrelas-do-mar aumente, pois elas possuem grande capacidade regenerativa. Assim, podem originar um indivíduo inteiro a partir de cada uma das partes devolvidas ao tanque.

2) É correto afirmar que uma estrela-do-mar é um animal sésil? Justifique.

R: Não, pois ela tem pés ambulacrais e pode se locomover.

3) Onde vivem os equinodermos?

R: Os equinodermos são todos marinhos.

4) Artrópodes são, geralmente, classificados em quatro grupos principais. O grupo que possui representantes que não apresentam antenas é chamado de: **ARACNÍDEOS..**

5) São quase todos aquáticos os artrópodes da classe dos: **crustáceos.**

6) (UFRS) A presença de um esqueleto externo quitinoso e de patas articuladas caracteriza o filo:

a) Annelida. b) Mollusca.

c) Vertebrata.

d) Arthropoda.

Os átomos e suas características

Você já deve ter ouvido alguém dizer que **uma molécula de água é formada por dois átomos de hidrogênio e um átomos de oxigênio**, não é mesmo?! Mas o que são átomos e moléculas? Você sabe me dizer?

Os átomos que compõem todas as coisas possuem o mesmo formato, ou seja, todos eles têm um **núcleo** e outras partículas menores, os **elétrons**, que ficam girando ao redor desse núcleo, como mostra a imagem a seguir:

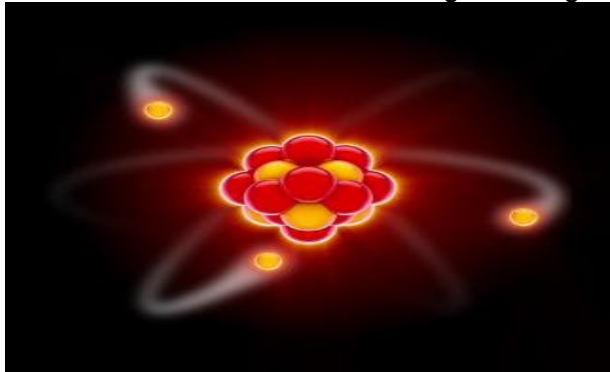



Figura que ilustra como seria o modelo de um átomo



A quantidade de partículas que compõem os átomos é o que os diferencia. Existem 92 tipos diferentes de átomos e mais 25 que já foram produzidos em laboratório. Esses átomos podem unir-se, ficando bem juntos e formando os materiais que conhecemos. Por exemplo, já viu os balões em festas infantis que, se você soltar, sobem e saem voando? Bem, esses balões estão cheios de um gás chamado hélio que é formado por vários átomos desse elemento:



O balão está cheio de gás hélio, que é formado por vários átomos desse elemento, como mostrado do lado direito da imagem

Veja outros materiais formados por diferentes tipos de átomos:



Os pregos são feitos de vários átomos de ferro.



O ouro é feito de vários átomos de ouro.



O carvão é feito de vários átomos de carbono.

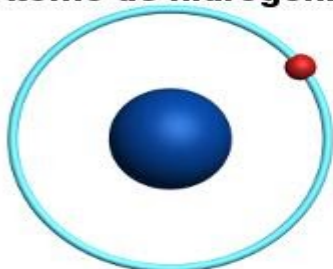


O mercúrio é feito de vários átomos de mercúrio.

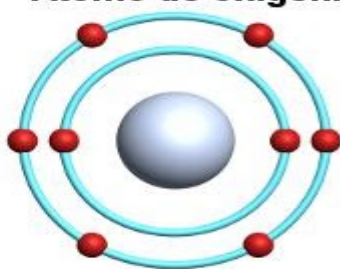
Diferentes materiais (ferro, ouro, carvão e mercúrio) compostos de átomos diferentes. Mas os átomos também podem juntar-se com outros átomos diferentes, formando as **moléculas**. A seguir temos um átomo de hidrogênio e um átomo de oxigênio:



Átomo de hidrogênio

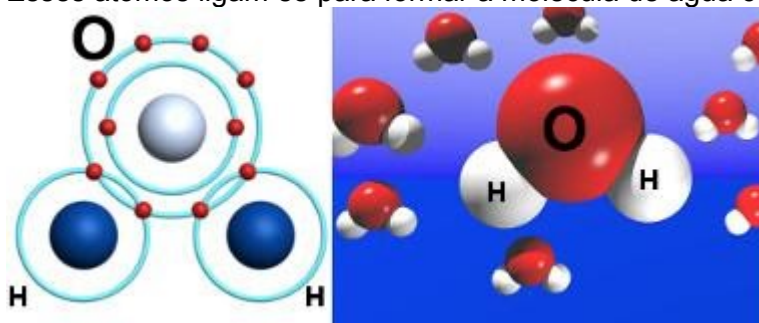


Átomo de oxigênio



Átomos de hidrogênio e de oxigênio

Esses átomos ligam-se para formar a molécula de água como mostrado a seguir:



Formação de moléculas de água

Os átomos podem ligar-se de formas bem diferentes e formar muitos tipos de moléculas. É por isso que existem tantos materiais com propriedades diferentes ao nosso redor.

Exercícios

- 1) O que são átomos?
- 2) Quais as estruturas presentes no átomo?
- 3) Quantos tipos de átomos podemos observar em nosso planeta?
- 4) Quais os átomos formam a molécula de água?
- 5) Quais as estruturas presentes no núcleo de um átomo?

BONS ESTUDOS!!